

# 臺東縣關山鎮關山國民小學 104 學年度下學期期末評量試題


科目：數學科 版本：康軒 評量範圍：第 5~9 單元 命題者：黃雅瑛 老師

一年 班 座號： 姓名：

一、選擇題，請選出正確的  
答案，寫下代號在( )中：

(每題 2 分，共 10 分)

( ) 1. 數數看，

大雄有多少元？ 

①70 元 ②80 元 ③90 元 ④100 元。

( ) 2. 35 元的紅豆湯，用

10 元來付，最少要付幾個

才夠？ ①4 個 ②6 個 ③8 個 ④3 個

( ) 3. 算式  $6-4=2$  其中「6」

是減數，「4」是減數，


請問「2」是

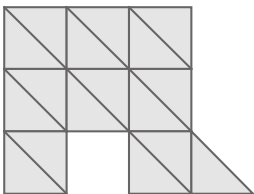
①和 ②差 ③被加數 ④加數。

( ) 4. 一個星期共有幾天？

①4 天 ②5 天 ③6 天 ④7 天。

( ) 5. 算一算，下面圖形


用了幾塊？ 



①17 塊 ②20 塊 ③22 塊 ④30 塊。


二、填一填，寫出正確的答  
案： (每格 2 分，共 24 分)


1. 阿福想买  30 元。


(1) 只能用  來付，共要付

( ) 個 。





(2) 只能用  來付，共要付

( ) 個 。

(3) 只能用  來付，共要付

( ) 個 。

2.

5 月						
日	一	二	三	四	五	六
			1	2	3	4
5	6	7	8	9	10	11
12	13	14	15	16	17	18
19	20	21	22	23	24	25
26	27	28	29	30	31	

(1) 5 月 18 日是星期( )。

(2) 5 月有幾個星期三？

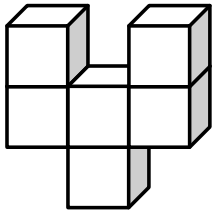
答：( ) 個。

(3) 如果今天( )是 5 月 21 日，那

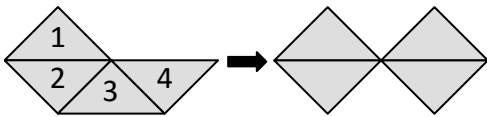
昨天是( )月( )日；

明天是( )月( )日。

3. 數數看看，下面圖形是用幾個小立方體排成的？（ ）個

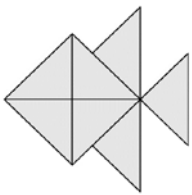


4. 移動哪一塊之後，會變成右邊的造型？(寫代號 1. 2. 3. 或 4)



答：移動的是（ ）號

5. 數數看看，下面圖形是用多少塊小三角拼成的？



答：（ ）塊

三、下面真是真真和 4 位好朋友生日，今年誰先過生日？按照順序在（ ）裡填入 1、2、3、4、5。(每格 2 分，共 10 分)


名字	出生日期
真真	( ) 3 月 3 日
東東	( ) 5 月 19 日
佳佳	( ) 6 月 4 日
大明	( ) 12 月 20 日
琪琪	( ) 8 月 31 日

四、畫畫看看：(每題 3 分，共 9 分)

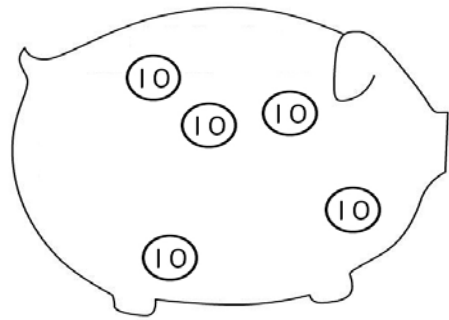
1. 用 50、10、5 或 1 畫畫看看，怎麼付錢才會剛好？




76 元



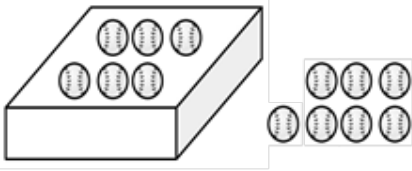
2. 撲滿裡的錢要剛好 65 元，不夠的補畫上去。



3. 畫出和左邊三角形一樣大的圖形。



五、看圖做做看：(共3分)



$6+7=(13)$

$7+6=( )$

$13-6=( )$

$13-7=( )$

六、算算看，在( )中寫出答案。(每題2分，共8分)

(1) $8+2+5=( )$	(2) $4+9+6=( )$
(3) $7+9-5=( )$	(4) $13-4+2=( )$

七、用直式算算看，並在( )中寫出答案。(每題2分，共12分)

(1) $10+25=( )$	(2) $37+13=( )$
(3) $48+9=( )$	(4) $36-12=( )$

(5) $58-10=( )$	(6) $98-5=( )$
-----------------	----------------

八、連連看：(共8分)

1.

	·	
	·	
	·	
	·	

九、應用問題：請列算式，並寫出答案。(每題4分，共16分)

1. 瑞瑞排隊上公車，排在她的前面有6個人，排在她後面的人有7個人，一共有幾個人排在排隊?

算式：

答：( )個人

2. 媽媽買了 9 朵黃花、1 朵紅花和 5 朵白花，媽媽一共買了幾朵花？  
算式：

答：共( )朵花

3. 樹上有 16 隻小鳥，飛走了 6 隻，又飛來了 3 隻，現在樹上幾隻小鳥？用一個算式記記看。  
算式：

答：( )隻

4. 偉偉有 18 元，小玉有 60 元，兩人一共幾元？  
算式：

答：( )元

【試題已全部結束，請你作答完畢後，再仔細檢查！】