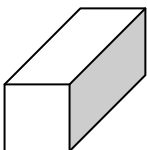
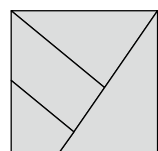

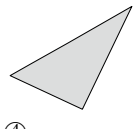




一、是非題； 5%

- () 1. 正立方體有 4 個面，每個面大小相同。
- () 2. 小明說：「我的生日是 2 月 30 日。」
- () 3. 正立方體和長方體都有 12 條邊。
- () 4. 珊珊說：「我 4 月 18 日到 4 月 28 日，連續 10 天都和媽媽一起去游泳。」
- () 5. 有甲、乙和丙 3 張三角形圖卡，其中甲圖卡和乙圖卡的面積大小一樣，丙圖卡的面積比乙圖卡的面積大，所以丙圖卡也會比甲圖卡的面積大。

二、選擇題； 14%

- () 1. 圖中長方體有幾個頂點？
①4 個 ②6 個 ③8 個 ④12 個

- () 2. 把甲圖折開，不會出現哪個圖形？

甲
①  ② 
③  ④ 
- () 3. 一條手鍊要 7 顆珠子串成，阿姨幫自己 3 個朋友，各做了一條手鍊，一共用了幾顆珠子？ ①10 顆 ②21 顆 ③28 顆 ④35 顆
- () 4. 哥哥在 9 月 4 日借書，只能借 3 天，他最晚在幾月幾日要歸還？ ①9 月 5 日 ②9 月 6 日 ③9 月 7 日 ④9 月 8 日
- () 5. 一本筆記本 13 元，買 3 本要付多少元？ ①16 元 ②26 元 ③33 元 ④39 元
- () 6. 下面敘述，哪一個是對的？
①一本雜誌的封面比一張書桌的桌面小 ②一個 50 元硬幣比一個 5 元

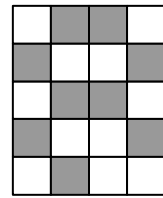
硬幣小 ③一張借書證比一張圖畫紙的面積大 ④一張郵票比一本課本大

- () 7. 小光的圖畫紙比平平的圖畫紙小，小光的圖畫紙比廷廷的圖畫紙大，誰的圖畫紙最大？
①小光 ②平平 ③廷廷 ④不能比較

三、圖圖看看； 3%

- 1. 圈出答案是 32 的算式。
3x8, 3x6, 2x9, 8x4
6x4, 4x8, 8x3, 4x
4x5, 6x3, 9x2, 6x2

2. 哪一種顏色的面比較大？把它圈起來。



(灰色, 白色)的面比較大

四、填填看看； 36%

- 1. 十月有幾天？()天
- 2. 一年中，幾月的天數最少？()月
- 3. 一年的最後一個月是幾月？()月
- 4. 一星期有()天。
- 5. 一年的第一天是()月()日。
- 6. (1)10x7=()
(2)0x5=()
- 7. 偶像團體 3344 從 8 月 26 日星期六開始舉行簽唱會，連續一個星期，最後一場在()月()日星期()。
- 8. 林媽媽出國自助旅行，從去年 11 月 1 日到今年 1 月 31 日，一共出國旅行()個月。
- 9. 騎雙人協力車最長的旅程紀錄，總共花了 1 年又 8 個月才完成，一共是()個月。
- 10. 香香蛋糕店到今天為止已成立 3 年，也就()個月。

11. 鮮奶的保存期限從9月27日到10月6日，保存期限是()天。

12. 6星期有()天。

13. 哥哥買一輛汽車，從今年6月起分期付款，共10個月付完，哥哥要付到明年的()月。

14. 2014年2月有28天，那麼2014年總共共有()天。

15. 小玉這個星期六去臺北，從星期六算起，去玩四天，下個星期六()回臺東。

16. 8×7 和 7×8 得到的答案一樣嗎？()

17. 剛好分完的畫○，不可以一分完的打×：

- (1) () 36塊餅乾，平分給5個人。
- (2) () 有28個小朋友，平分分成4排。
- (3) () 56朵花，平分綁成7束。
- (4) () 有16張貼紙，平分給3個人。

18. 羚羊跳一步是6公尺，野兔跳一步是2公尺。羚羊跳了3步，野兔要跳幾步才會和羚羊跳的距離一樣遠？()步

19. 小雅量了一個形體，它有6個面，且每個面都是正方形，這個形體是()體。

20. 一瓶養樂多8元，永文的錢剛好可以買10瓶，如果改成買每包10元的餅乾，可以買幾包？()包

21. 一排有5顆彈珠，共排7排，把這些彈珠改成每排7顆彈珠，可以排成幾排？()排

22. 小姑姑出國旅遊10天，在9月17日回國，她是()月()日出國。

23. 雅芬的撲滿裡有155元，有一元、五元和十元硬幣。其中五元硬幣有10個，十元硬幣比五元硬幣少1個，一元硬幣比五元硬幣多5個。完成下面表格。

硬幣	一元	五元	十元
個數(個)			
金額(元)			

五、計算題；4%

算一算，並用直式記記看。



1. $9 \times 5 = ()$ 2. $3 \times 9 = ()$

六、連連看；9%

1.

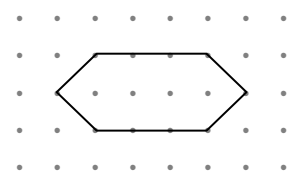
3×7	6×9
9×6	7×3
3×8	4×6

2. 想一想，連連看。

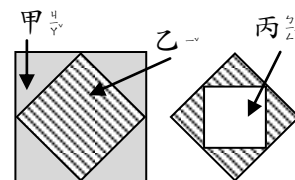
	•		•	正立方體	•	每個面都一樣大
				長方體		共有12條邊
						每條邊都一樣長

七、看圖回答問題；9%

1. 圖中有()條邊、()個角和()個頂點。



2. 哪一個圖案的面積最小？()
哪一個圖案的面積最大？()



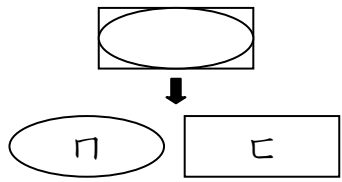
3.

文秀和育佑玩射飛鏢的遊戲，結果如

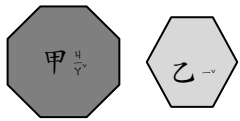
4. 圖，請問文秀一共得了()分，文秀的得分是否比育佑多？()。

得分	0分	1分	3分	5分
文秀	4	1	3	2
育佑	1	5	2	2

5. 甲和乙兩個圖形，誰的面積比較大？()



6. 描下甲圖，再和乙圖比比看，哪一個的面積比較小？()



八、應用題：20% (第 1-4 題：4%，第 5-6 題：2%)

1. 明明用 9 公分的尺量桌子的長度，量了 8 次後，桌子還多出 2 公分，桌子長幾公分？

2. 十元商品店的每一樣東西都賣 10 元，小翔買了 2 個杯子和 3 條毛巾，一共花了多少元？

3. 爸爸預定 12 月 18 日到 12 月 25 日到日本參觀。如果爸爸多停留 3 日，那麼他總共在日本停留了幾天？

4. 一包糖果 15 元，特價期間每包便宜 7 元，媽媽買 6 包，共要付多少元？

5. 有 27 個粽子，平均分到 9 個盤子裡，一個盤子裡有幾個粽子？

6. 小豪想買 40 元的鉛筆盒，每天存 5 元，最少要存幾天才夠？